

Dragi učenci!

Pošiljam vam zadolžitve za **petek**, 29. 5. 2020. Danes se še slišimo z nekaterimi učenci. V ponedeljek pa se srečamo z vsemi. Preživite lep vikend.

Učiteljica Mateja

šport	Glej navodila učiteljice Damjane
slovenščina	Zapis števil – utrjevanje- SDZ – 2. del - str. 75, 76, 77, 78
matematika	Pisno deljenje – utrjevanje – DZ str. 36, 37
naravoslovje in tehnika	Kraljestvo živali - utrjevanje
NIP - nemščina	Glej navodila učitelja Jake

1. ura – ŠPORT

Pred zaključkom delovnega tedna si vzemite nekaj časa za športno aktivnost, ki vam je najljubša (sprehod, kolesarjenje, tek, ples, skiro, rolanje...).

2. ura - SLOVENŠČINA

Danes boste utrjevali zapis števil.

Rešite: SDZ – 2. del - str. 75, 76, 77, 78.

Dodatna naloga: vaje za utrjevanje na spodnji povezavi.

<https://www.thatquiz.org/sl/practicetest?1x5070mz8319>

3. ura: MATEMATIKA – Pisno deljenje

Zdaj pa ste že pravi mojstri v pisnem deljenju.

Dokažite to z reševanjem nalog v delovnem zvezku na strani 36 in 37.

4. ura – NARAVOSLOVJE IN TEHNIKA

Rešite učni list. Lahko ga natisnete ali pa v zvezek za NIT napišete samo odgovore.

1. Oglejte si sliko ribnika. Napišite vsaj tri vrste živih bitij, ki jih vidite na sliki.



2. Luka je v ribniku, ki ga vidite zgoraj, opazil nekaj rib in paglavcev. Kako so paglavci prišli v ribnik?

A Izlegli so se iz jajčec, ki so jih v ribnik odložile ribe.

B Nastali so iz blata na dnu ribnika.

C Nastali so iz snovi raztopljenih v ribniku.

Č Izlegli so se iz jajčec, ki so jih v ribnik odložile žabe.

3. Na sliki je navaden lan. Poimenujete označene dele rastline in opišite njihove naloga.

	<i>Ime dela rastline</i>	<i>Naloga dela rastline – opišite, kaj je njegova funkcija</i>
1		
2		
3		
4		



4. Obkrožite črko pred vrsto, v kateri so naštetih samo plazilci.

A kuščar, žaba, kača

B hobotnica, polž, želva

C želva, kuščar, krokodil

Č rakovica, deževnik, kača

5. Pri pravilnih trditvah obkrožite DA, pri napačnih pa ne. Napačne trditve popravite.





Telo žuželk je sestavljeno iz dveh delov in treh parov kril. DA NE

Pajki so za človeka pomembni, saj oprašujejo rastline. DA NE

Sesalci so živali, ki se izležejo iz jajc. DA NE

Ptiči ob rojstvu sesajo materino mleko. DA NE

6. Za vsako žival določite, ali jo uvrščamo med plazilce ali med dvoživke. Ob plazilce napišite črko P, ob slikah dvoživk pa črko D.

 Žaba	<input type="radio"/>	 Zelenec	<input type="radio"/>	 Smokulja	<input type="radio"/>
 Močvirska sklednica	<input type="radio"/>	 Močerad	<input type="radio"/>	 Belouška	<input type="radio"/>

7. Katere živali imajo hrbtenico? Pod ustreznimi živalmi pobarvajte krogec.

 <input type="radio"/>	 <input type="radio"/>	 <input type="radio"/>	 <input type="radio"/>	 <input type="radio"/>
--	--	--	--	--

