



Have a GREAT Wednesday!

PREDMET: ŠPO

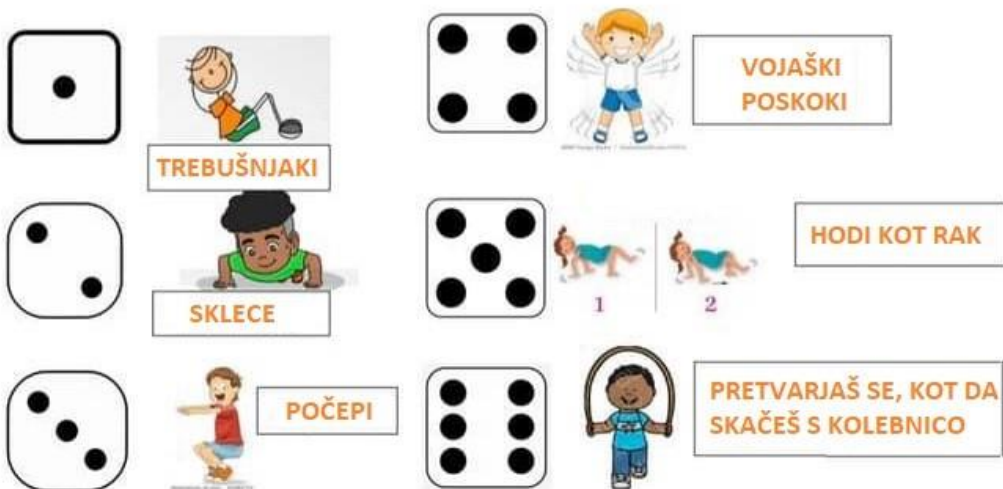
Najprej se dobro ogrej. Začni z 10 minutami hoje in teka. Najprej opravi 4 min teka v lahkotnem teku. Nato 2 minute hodi. Sledi zopet 4 minute teka.

Sedaj poišči igralno kocko in poglej, katere vaje boš izvedel.

TELOVADIM S KOCKO

NAVODILO: VRŽI KOCKO IN IZVEDI VAJO, KI SE UJEMA Z DOBITNO ŠTEVILKO. IGRO LAHKO IZVEDEŠ TUDI Z DRUGIMI DRUŽINSKIMI ČLANI.

VSAKO VAJO PONOVI 10 KRAT.




PREDMET: MAT

1. Včeraj si naredil naloge v DZ. Preveri rešitve.

1.


 $250 \text{ €} - 100 \text{ €} = 150 \text{ €}$

 $710 \text{ €} - 200 \text{ €} = 510 \text{ €}$

 $430 \text{ €} - 400 \text{ €} = 30 \text{ €}$

 $860 \text{ €} - 550 \text{ €} = 310 \text{ €}$

 $680 \text{ €} - 20 \text{ €} = 660 \text{ €}$



2.

- | | | |
|-------------------------------|-------------------------------|-------------------------------|
| $980 - 600 = \underline{380}$ | $980 - 500 = \underline{480}$ | $240 - 10 = \underline{230}$ |
| $530 - 100 = \underline{430}$ | $610 - 100 = \underline{510}$ | $640 - 300 = \underline{340}$ |
| $290 - 200 = \underline{90}$ | $360 - 200 = \underline{160}$ | $440 - 20 = \underline{420}$ |
| $840 - 300 = \underline{540}$ | $150 - 100 = \underline{50}$ | $970 - 600 = \underline{370}$ |
| $470 - 300 = \underline{170}$ | $920 - 800 = \underline{120}$ | $390 - 10 = \underline{380}$ |

3.



$$326 \text{ €} - 4 \text{ €} = 322 \text{ €}$$



$$513 \text{ €} - 2 \text{ €} = 511 \text{ €}$$



$$359 \text{ €} - 7 \text{ €} = 352 \text{ €}$$



$$487 \text{ €} - 2 \text{ €} = 485 \text{ €}$$



$$723 \text{ €} - 3 \text{ €} = 720 \text{ €}$$



4.

$$837 - 7 = \underline{830}$$

$$163 - 2 = \underline{161}$$

$$422 - 1 = \underline{421}$$

$$514 - 3 = \underline{511}$$

$$749 - 6 = \underline{743}$$

$$218 - 6 = \underline{212}$$

$$486 - 2 = \underline{484}$$

$$278 - 5 = \underline{273}$$

$$857 - 4 = \underline{853}$$

$$656 - 0 = \underline{656}$$

$$305 - 1 = \underline{304}$$

$$909 - 9 = \underline{900}$$

$$921 - 1 = \underline{920}$$

$$699 - 7 = \underline{692}$$

$$363 - 2 = \underline{361}$$



2. Danes ponovi odštevanje stotic, desetic in enic. Odpri [RZI na str. 92](#) in reši naloge.
3. Želiš še? Imaš čas? Dodatna naloga te čaka na koncu dokumenta.

Yes!

PREDMET: GUM

Nazadnje si poslušal pesem Petelinček je na goro šel. Si se naučil besedilo?
Zapoj pesem še enkrat <https://www.youtube.com/watch?v=izAB3Lpq3SM>

Že prejšnjič sem napisala, da je pesem slovenska ljudska.

Danes se bomo pogovarjali o **ljudski glasbi**. O tem, kaj je značilno za ljudsko glasbo smo se že pogovarjali. K ljudski glasbi spadajo **ljudske pesmi, ljudski plesi in ljudska glasbila**.



Ljudska pesem se ohranja iz roda v rod in se širi po ustnem izročilu. Kdo jo je ustvaril, ne vemo. Zneane ljudske pesmi so: Prišla je miška iz mišnice, Po mest sem španciral, Huha huhoha, Igraj kolo, Pika poka pod goro, Petelinček je na goro šel ... Ljudske pesmi pojejo **ljudski pevci**.

Katera ljudska glasbila poznamo?

Ljudska glasbila so instrumenti, ki so si jih izmislili ali pa jih uporabljajo ljudje v določenem kraju, da bi izvajali svojo glasbo. Se spomniš gospe Majde Nemanič, ki je prišla na obisk v našo šolo? No povej, katera glasbila je prinesla s seboj in nam jih pokazala. Na ljudska glasbila igrajo **ljudski godci**.

Poimenuj glasbila.



TAMBURIN, CITRE, OKARINA, OPREKELJ, TRSTENKE, LONČENI BAS, ZVONEC, GLAVNIK ali »KRAMPL«, RAGLJA, ORGLICE.

Si spoznal kakšno novo glasbilo? Jaz upam, da si. 😊 Manjka še eno zelo znano ljudsko glasbilo. Katero? Harmonika, tako je.

V zvezek napiši naslov **LJUDSKA GLASBILA**. Ljudska glasbila nariši ali jih prilepi ter jih poimenuj. Piši s pisanimi črkami.

PREDMET: SLJ

REŠITVE

Preveri rešitve včerajšnje naloge pri SLJ:

1. NALOGA, STR. 51

Rešitev prve uganke: mravlje

Veselo sem izgovoril tako, da sem V izgovoril kot V.

Rešitev druge uganke: slon

Poudarjene črke (siv, debel, igriv) sem izgovarjal kot U.

2. NALOGA, STR. 51



1. NALOGA, STR. 52

V = V	V ≠ V
rokavica	lev
voziček	pav
veverica	lastovka
vaza	ovca
krava	lestev

2. NALOGA, STR. 52

Prilagam moje primere povedi. Tvoje povedi se seveda razlikujejo.

Splezala sem visoko na lestev.

Veeverica je splezala na drevo.

Ovca se pase na travniku ob gozdu.

Moja zimska rokavica je izginila.

Vaza je padla z mize in se razbila.

PONOVIMO

Glasno preberi spodnje povedi in **se pri tem dobro poslušaj**. Pozoren bodi na izgovorjavo črke V.

Ob osmih je zazvonil **zvonec**.

Na **ovojnico** sem prilepil znamko.

Lev leži na skali.

Lastovka je odletela na bližnje drevo.

Zapomni si:

Črko V izgovarjamo na dva načina, kot U in kot V.

Odpri zvezek za SLJ in vanj **prepiši** spodnje besedilo v pravokotniku:

V ali U	
V	V = V
vaza	lev
rokavica	lastovka

Odpri delovni zvezek za SLJ na strani 52 in glasno preberi besedilo 3. naloge.

Ustno odgovori na spodnja vprašanja:

1. Koga sta občudovala mati levinja in oče lev?
2. Kakšna je bila njuna hčerka?
3. Kaj je levinja počela drugim levčkom?
4. Zakaj je prišel levji zdravnik?
5. Kaj je zdravniku storila levinja?
6. Ali sta bila oče in mama potem še ponosna nanjo?
7. Zakaj meniš, da ne?
8. Si bil ti tudi kdaj pogumen? Kdaj? Kaj s storil?

Odpri zvezek za SLJ in vanj z rdečo barvico zapiši naslov: VADIMO BRANJE IN PISANJE. V zvezek **prepiši zgodbo** iz 3. naloge tako, da v njej **namesto male levinje (hčerke) nastopa sinček levček.**

Za pomoč ti prilagam začetek zgodbe:

Mati levinja in oče lev sta občudovala svojega sinčka levčka. Bil je ...

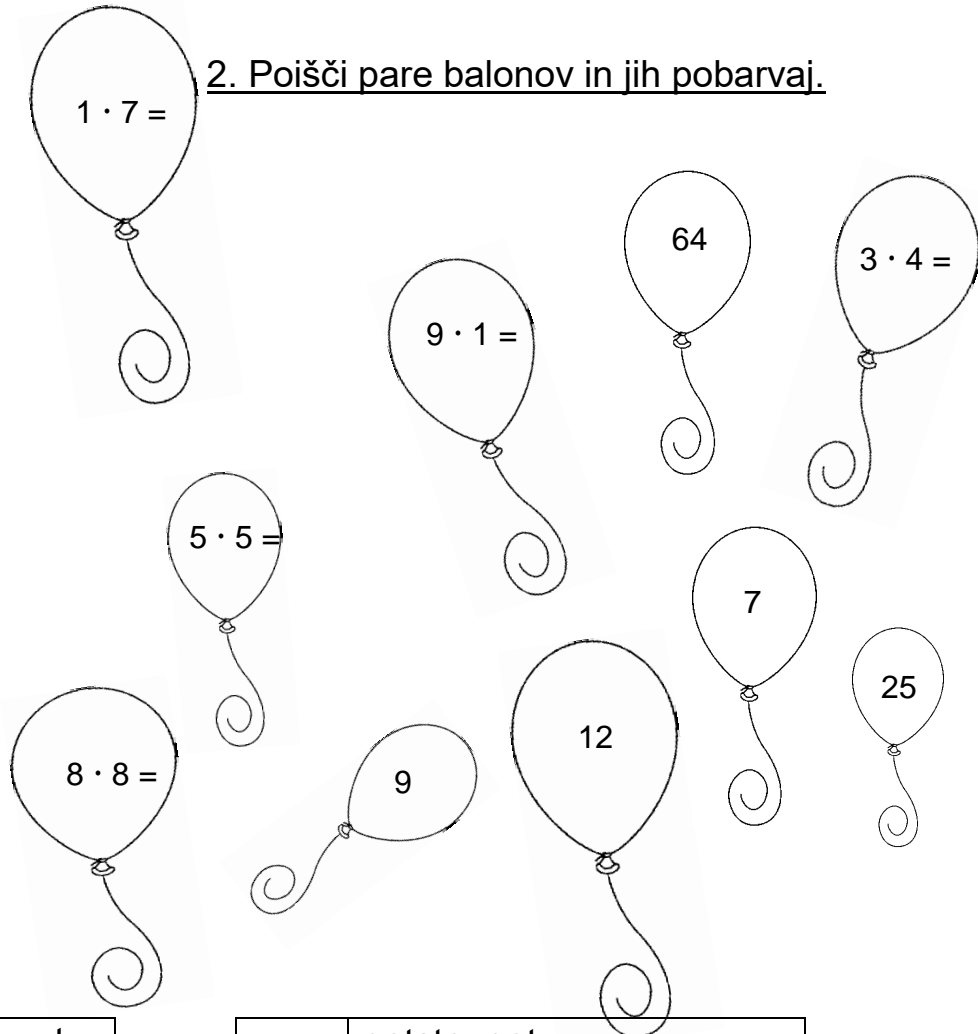


MATEMATIKA – DODATNE NALOGE

1. Reši preglednico. ☺

·	5	7	10
1			
2	10		
3			
4		28	
5			
6			
7	35		
8			
9			90
10			

2. Poišči pare balonov in jih pobarvaj.



3. Dopolni.

473	štiristo triinsedemdeset
	petsto dvaindvajset
389	
	štiristo enajst

	petsto pet
1000	
	dvesto štiriinšestdeset
679	

4. Miselni orehi – Si jim kos? ☺

○ pomeni seštej

☆ pomeni odštej



pomeni zmnoži

$$16 \bigcirc 4 \star 11 \bigcirc 3 \bigcirc 5 \bigcirc 2 \star 8 \star 1 \bigcirc 10 = \underline{\hspace{2cm}}$$

$$4 \bigotimes 4 \star 10 = \underline{\hspace{2cm}}$$

$$100 \star 10 \bigotimes 10 \bigcirc 50 = \underline{\hspace{2cm}}$$