

SPOZNAVANJE OKOLJA


Pred tabo je preverjanje znanja. Reši ga in mi ga pošlji.

PREVERJANJE ZNANJA

OKROG SVETA



1. Dopolni manjkajoče besede.

Zemljo najbolj prikazuje _____ . Zemljo lahko
prikažemo tudi z _____.

- Kaj je prikazano z modro barvo? _____
- Kaj je prikazano z rjavo barvo? _____
- Kako pravimo kopnemu na Zemlji? _____
- Kako pravimo vodam? _____
- Koliko imamo celin? _____
- Koliko je oceanov? _____

2. Podčrtaj celine.









Afrika, Šanghaj, Južna Amerika, Sahara, Italija, Evropa, Severna Amerika,
Madžarska, Azija, Slovenija, Avstralija, Antarktika, Kitajska.

3. Na kateri celini bi najraje živel/a? Zakaj?

4. Podčrtaj oceane.

Tihi ocean, Zahodni ocean, Vzhodni ocean, Atlantski ocean, Južni ocean, Glasni
ocean, Severni ocean, Indijski ocean, Afriški ocean, Azijski ocean

5. H kateri celini sodi? Poveži vsako celino z drugo barvo.

- Največji tropski gozd je ob reki Amazonki. 
- Sahara je največja puščava.  JUŽNA AMERIKA
- Kitajska je država z največ prebivalci na svetu. AVSTRALIJA
- Najvišja gora je Mount Everest.  AFRIKA
- Značilne živali so pingvini, beli medvedi, kiti.  AZIJA
- To je območje kengurujev, koal, emujev.  EVROPA
- Kip svobode je mogočen kip.  SEVERNA AMERIKA
- Tu so Niagarski slapovi.  ANTARKTIKA
- Postojnska jama je ena najbolj znanih kraških jam. 

6. Obkroži pravilni odgovor.

- Katera trditev je pravilna?
 - a) V puščavah je zelo malo padavin, kljub temu pa rastlinstvo bujno uspeva.
 - b) V puščavah padavin ni nikoli, zato tudi ni rastlin in živali.
 - c) V puščavah je zelo malo padavin in zato tudi malo rastlin in živali.
 - č) V puščavah je padavin dovolj, zato je tam veliko rastlin in živali.

- Na kateri celini se nahaja velemesto Šanghaj?
 - a) Na Kitajskem.
 - b) V Aziji.
 - c) V Ameriki.
 - č) Na Japonskem.

- Kje leži celina Antarktika?
 - a) Na severu.
 - b) Na jugu.

c) Na vzhodu.

č) Na zahodu.


- Kaj velja za Mrtvo morje?

a) Voda je sladka.

b) Voda je slana.

c) Voda je kisla.

č) Voda je grenka.

- Katera država ima največje število prebivalcev na svetu? 

a) Japonska.

b) Velika Britanija.

c) ZDA.

č) Kitajska.

- Katere od naštetih celin na globusu ne vidimo, če globusa ne obračamo?



a) Avstralije.

b) Evrope.

c) Afrike.

č) Azije.

- Kje se nahaja najdaljša reka na svetu?

a) V Afriki.

b) V Aziji.

c) V Evropi.

č) V Avstraliji.

- kateri celini pravimo tudi črna celina?

a) Afriki.

b) Ameriki.

c) Evropi.

č) Aziji.

- Kaj je v Južni Ameriki?

a) Sahara.

- b) Mount Everest.
- c) Gora Machu Picchu.
- č) Kip svobode.

- Katera trditev je pravilna?

- a) Najtoplejša celina je Avstralija, najhladnejša pa Antarktika.
- b) Najtoplejša celina je Afrika, najhladnejša pa Antarktika.
- c) Najtoplejša celina je Afrika, najhladnejša pa Evropa.
- č) Najtoplejša celina je Amerika, najhladnejša pa Azija.

- Katera znamenitost Avstralije je na fotografiji?



- a) Sydneyjska operna hiša.
- b) Uluru.
- c) Veliki koralni greben.
- č) Dunajska operna hiša.

SLOVENSKI JEZIK

1. Oglej si sliko in ustno odgovori na vprašanja.

- Koliko psov je na sliki?
- Kateri pes po vrsti je črne barve?
- Kateri po vrsti ima pike?
- Kakšne barve je tretji po vrsti?
- Kako je ime četrtemu psu?



REKS



PIKI



BENI



MUFI



RUNO



DINO

ŠEST PSOV
6

ŠESTI PES
6.

Koliko psov?

Kateri pes?

- Si opazil/a kakšno razliko med zapisom teh dveh števil? Števili se razlikujeta v **piki**, ki jo ima drugo število. Še enkrat preberi števili.

2. Beri na glas števila in utrdi zraven še poznavanje števil do 1000. Bodi pozoren/a na piko.

PRIMER

121 STO ENAINDVAJSET
121. STOENAINDVAJSETI

609	375.	489.	812	935.	448	599.	234	135	404.
-----	------	------	-----	------	-----	------	-----	-----	------

3. Preberi še spodnje besedilo.

- Ob **9.** uri imam zobozdravnika. V čakalnici je bilo **9** pacientov.
- V skupini je **5** učencev. Tina je **5.** član.
- Športni dan imamo **15.** aprila. Na počitnicah smo bili **15** dni.
- **10.** sem bil na tekmi. Na tekmi je bilo **10** otrok.

4. Odpri DZ, str. 39.

- **Preberi** zgornje besedilo. Podčrtaj vsa števila, napisana z besedo.
- **Preberi** še spodnje besedilo.
- **Primerjaj** besedili in povej, po čem se razlikujeta.
- **V drugem besedilu podčrtaj** z **ZELENO** vsa števila, ki nam odgovorijo na vprašanje KOLIKO. Število zapišemo **brez pike**.
- Z **RDEČO podčrtaj** vsa števila, ki nam odgovorijo na vprašanje KATERI (PO VRSTI). Število zapišemo **s piko**.
- S kljukico označi, kateri zapis poročila se ti zdi preglednejši.

5. V zvezek napiši naslov VAJA.

- Napiši dve povedi, kjer boš uporabil/a števili **7.** in **7** ter
- dve povedi, kjer boš uporabil/a besedi **trinajst** in **trinajsti**.

MATEMATIKA

1. Ponovimo:

Ustno seštej naslednje račune.

$300 + 60 = \underline{\quad}$ $430 + 70 = \underline{\quad}$ $750 + 30 = \underline{\quad}$ $950 + 40 = \underline{\quad}$

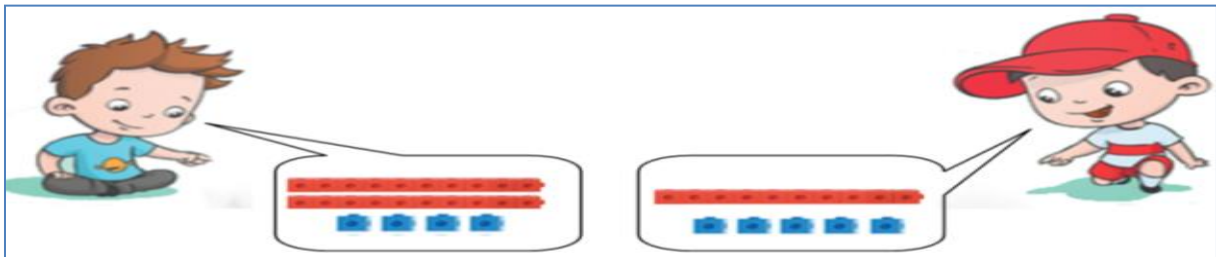
$500 + 500 = \underline{\quad}$ $440 + 200 = \underline{\quad}$ $160 + 300 = \underline{\quad}$ $630 + 200 = \underline{\quad}$

$700 + 2 = \underline{\quad}$ $213 + 6 = \underline{\quad}$ $342 + 6 = \underline{\quad}$ $871 + 8 = \underline{\quad}$

2. Danes se bomo učili pisno seštevati. Sešteli bomo števili 24 in 15. Pri pisnem seštevanju števila zapišemo v stolpcu. Poskusimo.








Brin ima 24 kock.

Jon ima 15 kock.



Izračunali bomo skupno število Brinovih in Jonovih kock.

Brinove in Jonove kocke so narisane spodaj v preglednici.

		
	D	E
		
		
	3 D	9 E

Rdeče kocke predstavljajo **D** (desetice) in modre kocke **E** (enice).

Desetice smo dali pod desetice in enice pod enice. Pod obema podatkomoma je potegnjena črta, ki pomeni je enako.

Računamo:

- Najprej izračunamo, koliko je E (enic). $5E + 4E = 9E$ To zapišemo v preglednico pod E.
- Nato izračunamo, koliko je D (desetic). $1D + 2D = 3D$ To zapišemo v preglednico pod D.

Prikaz pisnega seštevanja s števili v preglednici.

		D	E
		2	4
	+	1	5
		3	9

Prikaz pisnega seštevanja v stolpcu brez preglednice.



D E

2 4 Najprej zapišemo prvo število, ki ima 2D in 4E.

+1 5 Nato zapišemo število 15, ki ima 1D (vpišemo jo pod 2D) in 5E
 _____ (vpišemo pod 4E).

3 9

Računamo: $5E + 4E = 9E$ Zapišemo pod črto (črta pomeni je enako) pod enice.

$1D + 2D = 3D$ Zapišemo pod črto pod desetice.

Pri pisnem seštevanju vedno začnemo seštevati pri enicah in nadaljujemo pri desetih.

3. V matematični zvezek napiši naslov **PISNO SEŠTEVANJE** in prepisi račune v spodnjih preglednicah.

	D	E
	4	4
+	2	3
	6	7

Računamo: **$3E + 4E = 7E$**

$2D + 4D = 6D$

Ostale primere izračunaj sam/a.

	D	E
	4	5
+	3	1

	D	E
	8	2
+	1	1

	D	E
	3	7
+	5	1

	D	E
	2	5
+	3	0

4. Reši naloge v DZ na strani 44 in 45 in v IKSU na strani 87.

ŠPORT

V četrtek smo imeli športni dan. Če želiš še izvajati naloge in izboljšati svoje rezultate, jih lahko še večkrat ponoviš.

Za ostale pa je na voljo še športna igra, ki jo lahko izvajate doma. Za igro potrebujete igralno kocko, ki jo lahko večkrat vržete. Za določeno število pik je v tabeli prikazana vaja.

	POČEPI 10X	
	TREBUŠNJAKI 8X	
	SKLECE 6X	
	IZPADNI KORAK 4X	
	POVALJKE 8X	
	PAJAC 8X	

ANGLEŠČINA

V živalskem vrtu – At the zoo

Dragi učenec, draga učenka!

Ponovno nadaljujete s temo – At the ZOO (v živalskem vrtu). 😊


V tej uri boš ponovil znanje in se naučil tudi kaj novega. 😊



1. Najprej ponovno poslušaj zgodnico DEAR ZOO in ob tem ponovi izgovorjavo besed za živali.

DEAR ZOO: <https://www.youtube.com/watch?v=rudDGRQ9QGA>

2. Oglej si risanko Peppa the pig. Peppa je s svojimi sošolci odšla v živalski vrt. Tam je videla veliko živali, spoznala pa je tudi, kaj jedo. 😊



Peppa the pig – At the zoo:

<https://www.youtube.com/watch?v=wG79NIO0x7w>

Kar nekaj živali že poznaš, nekaj pa je tudi novih, kajne? 😊 Katere so te? **Nariši jih v zvezek in dopiši imena zanje.**

Naj ti malo pomagam (poleg je tudi izgovorjava):

- **tortoise (želva):** https://www.youtube.com/watch?v=dOzEB4P_h1k
- **gazzele (gazela):** <https://www.youtube.com/watch?v=J88BykKkmrl>
- **penguin (pingvin):** <https://www.youtube.com/watch?v=66dzvDmttqs>
- **butterfly (metulj):** <https://www.youtube.com/watch?v=krJC4J32rN8>

Si si zapomnil, kaj jedo? **Prepiši spodnje besede v zvezek ob živali, ki si jih narisal.**

- **Meat (meso):** <https://www.youtube.com/watch?v=WEVp7hNkz3s>
- **Vegetables (zelenjava):** <https://www.youtube.com/watch?v=XtohQ7EuWIQ>
- **Fruit (sadje):** <https://www.youtube.com/watch?v=abmuP6NP4Nk>
- **Grass (trava):** <https://www.youtube.com/watch?v=s8Juzkhq9Ls>
- **Lettuce (solata):** <https://www.youtube.com/watch?v=elw5mdlcboA>

p.s. Vesela bom, če mi boš poslal sličico naloge. 😊

