

20 . 3. 2020

SLOVENSKI JEZIK

V spodnje povedi pravilno vstavi predloge **v, iz, na, s, z**. Povedi prepisi v zvezek.

Pes je dremal _____ uti. Zaslišal je mačko in skočil _____ ute.

Miha se je peljal _____ kolesu. Zapeljal je na kamen in skočil _____ kolesa.

Tomaž je skočil _____ vodo, a je kmalu ves premražen pritekel _____ vode.

SPOZNAVANJE OKOLJA

Na spletnem naslovu <http://zemljevid.najdi.si/> so zemljevidi in satelitske slike Slovenije. Poišči zemljevid in satelitsko sliko Novega mesta. Ustno odgovori na naslednja vprašanja:

1. Kaj vidiš na satelitski sliki, na zemljevidu pa ne?
2. Kje lažje prepoznaš ceste, zgradbe in vode?

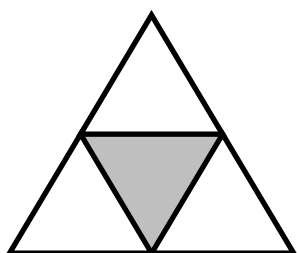
MATEMATIKA

Tudi danes bomo ponavljali dele celote. Naloge reši na učnem listu. Če ga ne moreš natisniti, naloge prepisi v matematični zvezek. Sličic ti ni potrebno risati, nariši le krog in šestkotnik.

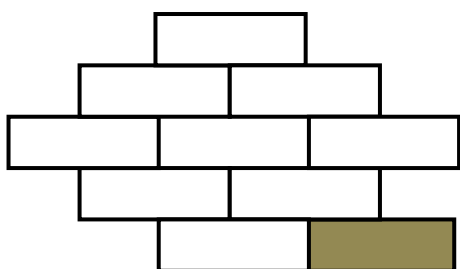
Z besedo in ulomkom zapiši, kolikšen del celote je označen.



| |
|--|
| |
| |




| |
|--|
| |
| |

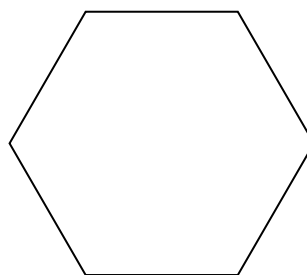


| |
|--|
| |
| |

Krog razdeli na četrtnine. Pobarvaj tri četrtnine.



Šestkotnik razdeli na šestine. Pobarvaj dve šestini.



LIKOVNA UMETNOST

Na list poljubne velikosti z barvicami ali s flomastri nariši znanilce pomladi. Svoj izdelek shrani. Pokazal mi ga boš, ko se zopet vidimo.

Prijeten vikend.